

4 Maak je vulkanenprofiel!

De onderdelen met * zijn verplicht. De andere vul je alleen in als je ze kunt vinden.

*Naam vulkaan: stromboli

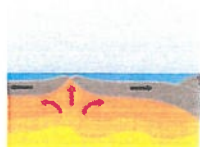
*Land: italië

Hoogste punt: 3060

strato of schild? strato

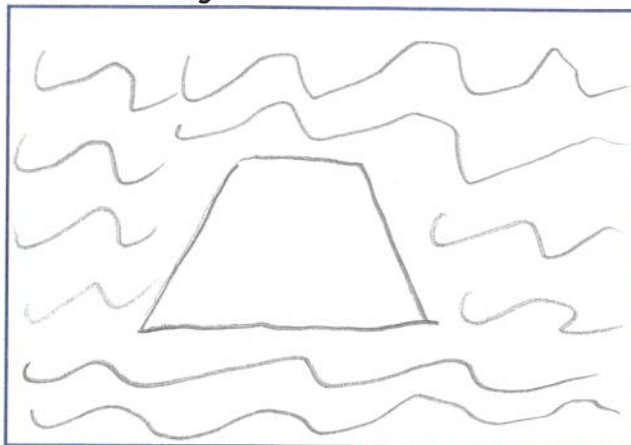


Stratovulkaan = steil



Schildvulkaan = best wel plat

Foto of tekening



*Dood, slapend of actief? _____

*Voor het laatst uitgebarsten: 28 augustus 2019 woensdag

Gevolgen van de uitbarsting: de rook 2 meter hoog

Bijzonderheden:

de rook 2 km hoog

*Hoe gevaarlijk op een schaal van 1 tot 10? Waarom? _____

*Ligging op de kaart van Europa:



4 Maak je vulkanenprofiel!

De onderdelen met * zijn verplicht. De andere vul je alleen in als je ze kunt vinden.

*Naam vulkaan: Vesuvius

*Land: Italië

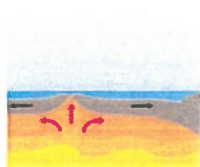
Hoogste punt: 1281

Strato of schild? Strato

Foto of tekening



Stratovulkaan = steil



Schildvulkaan = best wel plat

*Dood, slapend of actief? actief

*Voor het laatst uitgebarsten: 1944

Gevolgen van de uitbarsting: in het jaar 79 werd de Romeinse stad Pompeii vernietigd door een uitbarsting dat

Bijzonderheden: gebruide erg onverwacht

*Hoe gevaarlijk op een schaal van 1 tot 10? Waarom? 10

*Ligging op de kaart van Europa:




3 Een vulkaanuitbarsting, zo gaat dat!

Teken een stripverhaal over wat er voor, tijdens en na een vulkaanuitbarsting gebeurt.


De tekst schrijf je onder de tekeningen. Je mag er informatie over vulkanen in verwerken die jij interessant vindt. Hiervoor kun je de informatie van het bronnenblad gebruiken.

Voor de uitbarsting



het staat heel
steefig maar
dat is wel een
vulkaan hier
vlakbij

Tijdens de uitbarsting

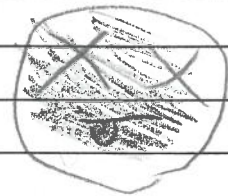


ik hoor iets
a a a a a a
boma help
wegmensen
wegmensen
wegmensen

Na de uitbarsting



x x x x x x x
ik ben dood



o o x v g m r c

de stromboli

